

AVALIAÇÃO DIAGNÓSTICA DE MATEMÁTICA

NOME: _____

ESCOLA: _____

PROFESSOR (A): _____

DATA DE APLICAÇÃO: _____


MA: _____

IMPORTANTE

Ao adquirir, você receberá este material em **Word Editável**, também em **PowerPoint** para correção em multimídia, o **alinhamento** de todas as questões com a BNCC e **gabarito**.

QUESTÃO 01

VEJA A QUANTIDADE DE ALUNOS PARTICIPARAM NESSE PASSEIO.



QUAL TURMA TEVE A **MENOR** QUANTIDADE DE ALUNOS PRESENTES NESSE PASSEIO?

- A) TURMA E.
- B) TURMA F.
- C) TURMA G.
- D) TURMA H.

QUESTÃO 02

VEJA A RETA NUMÉRICA A SEGUIR.



QUESTÃO 03

FERNANDA COMPROU 8 LARANJAS NA FEIRA E ACABOU PERDENDO 6. QUANTAS LARANJAS AINDA RESTARAM?

- A) 8
- B) 6
- C) 2
- D) 1

... S ABAIXO.


RAVI LUNA



- A) DAVI.
- B) RAVI.
- C) BIA.
- D) LUNA.

QUESTÃO 05

OBSERVE A NUMERAÇÃO DOS BRINQUEDOS DE PEDRO.




QUESTÃO 06

QUESTÃO 07

PAULO TEM 10 CARRINHOS DE BRINQUEDO E VITOR TEM 9. QUANTOS

QUESTÃO 08

RAFAEL É UM MÁGICO E POSSUI UMA COLEÇÃO DE VARINHAS. OBSERVE ABAIXO.

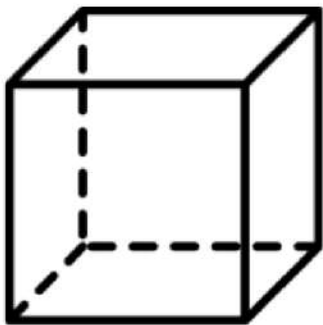


QUAL DAS VARINHAS É A MAIOR?

- A) I
- B) II
- C) III
- D) IV

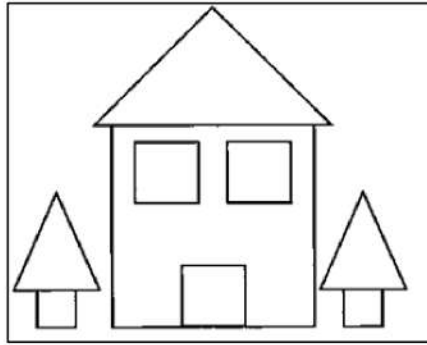
QUESTÃO 09

OBSERVE A FIGURA ABAIXO.



QUESTÃO 10

OBSERVE A CASA QUE LEVI DESENHOU.



- A) 1
- B) 3
- C) 6
- D) 9

QUESTÃO 11

EM UMA SALA DE AULA HÁ 3 FILEIRAS COM 2 CARTEIRAS EM CADA UMA.



QUESTÃO 12

GABRIEL VIAJOU PARA A CASA DE SUA

FICOU FORA DE CASA?

- A) 2
- B) 7
- C) 14
- D) 21

QUESTÃO 13

VEJA ABAIXO O DINHEIRO QUE LARISSA GANHOU.

**QUESTÃO 14**

CAIO ADORA BRINCAR. OBSERVE ABAIXO.

**QUESTÃO 15**

OBSERVE A BANDEJA DE OVOS ABAIXO.

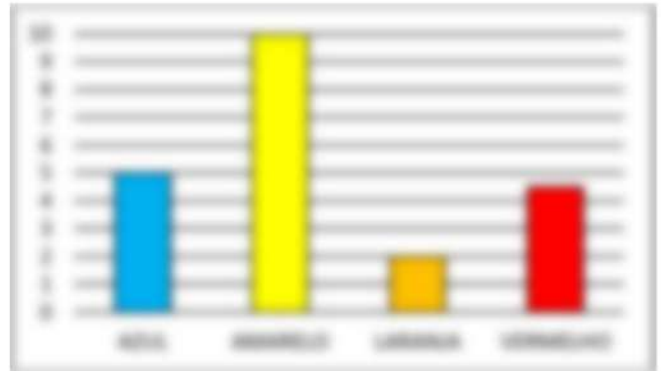


QUANTOS OVOS REPRESENTAM A METADE DA CAPACIDADE DESSA BANDEJA?

- A) 8
- B) 6
- C) 4
- D) 3

QUESTÃO 16

O GRÁFICO MOSTRA AS CORES PREFERIDAS DA TURMA DO 2º ANO.



QUANTOS ALUNOS VOTARAM NA COR AMARELA?

- A) 5
- B) 10
- C) 2
- D) 8

QUESTÃO 17

VEJA O COMPRIMENTO DO LÁPIS DE JÚNIOR.



QUANTOS CENTÍMETROS ESSE LÁPIS POSSUI?

- A) 10
- B) 20
- C) 25
- D) 30

QUESTÃO 18

TIAGO É DONO DE UM SUPERMERCADO. ELE VENDEU 5 PACOTES DE SAL E SEU COLEGA DE PROFISSÃO, FABRÍCIO, VENDEU 12 PACOTES.

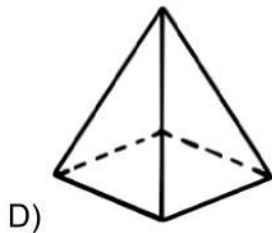
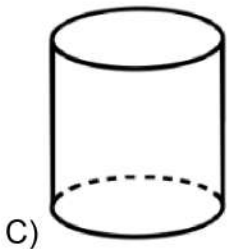
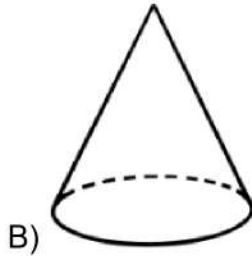
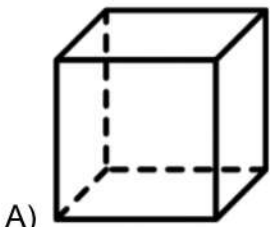
- A) 7
- B) 12
- C) 15
- D) 17

QUESTÃO 19

OBSERVE ABAIXO O SORVETE DE LARA.



OPÇÕES DE RESPOSTA



QUESTÃO 20

OBSERVE A CONTINHA DE SUBTRAÇÃO ABAIXO.



O RESULTADO DESSA SUBTRAÇÃO É:

- A) 5
- B) 10
- C) 20
- D) 25